

BALADES LUDIQUES POUR PETITS ET GRANDS

Bonnelles




Photo © ??????????

**Visiter,
se balader,
s'amuser!**



OFFICE DE TOURISME
RAMBOUILLET TERRITOIRES
1 rue du Général de Gaulle
78120 Rambouillet
Tél. : 0134 83 2121
contact@rambouillet-tourisme.fr
www.rambouillet-tourisme.fr

Facile



4,4 km

2 h 30

Temps estimé pour un enfant
de 4 ans marchant à 1,8 km/h

Bonnelles

Départ: parking du Centre sportif Prenez un crayon !
GPS: 48.61898N, 2.02376E

Au cœur de la vallée de Chevreuse, le village de Bonnelles est entouré de forêts, d'étangs et de chemins propices à la promenade. Ce petit village des Yvelines possède une histoire ancienne, liée aux seigneurs qui ont marqué la région et aux activités rurales qui ont façonné ses paysages. En se baladant dans ses rues ou sur les chemins qui l'entourent, on découvre un patrimoine discret et des espaces naturels où la faune et la flore sont encore très présentes.

Carnet de route

Soyez vigilants avec vos enfants notamment sur les zones non piétonnes. Le parcours s'effectue sous votre entière responsabilité. La société Randoland et l'Office de Tourisme déclinent toute responsabilité en cas d'accident.

Attention, la balade dans la réserve naturelle des étangs de Bonnelles (points 6, 7 et 8) n'est pas possible les jours de chasse. Pensez à vous renseigner avant votre départ.

Du parking, face à l'école, partir à gauche et prendre le premier chemin de terre puis encore à gauche, le long du parc du château. Arriver devant les grilles du château **1**.

Dos au château, partir légèrement à droite. Continuer tout droit sur l'allée de la Duchesse et s'arrêter devant la grille du parc **2**.

Après la grille, traverser la rue pour continuer tout droit en face dans l'allée de la Duchesse. Emprunter le passage piéton qui traverse la rue de Villevert et continuer sur le sentier à droite de la route. Tourner à droite puis, au bout du chemin des Seigles, continuer tout droit sur l'esplanade en herbe en direction du parc de jeux pour enfants. Juste après celui-ci, passer la sente du Clos Malon et entrer dans le parc arboré. Près de la sortie opposée, à proximité de la mairie, remarquer l'ancienne pompe à eau sur la droite **3**.

Sortir du parc côté mairie puis tourner à droite (rue de la Libération). S'arrêter à l'angle de la rue du Moulin Coleau pour remarquer, en face, l'ancienne plaque de chemin vicinal **4**.

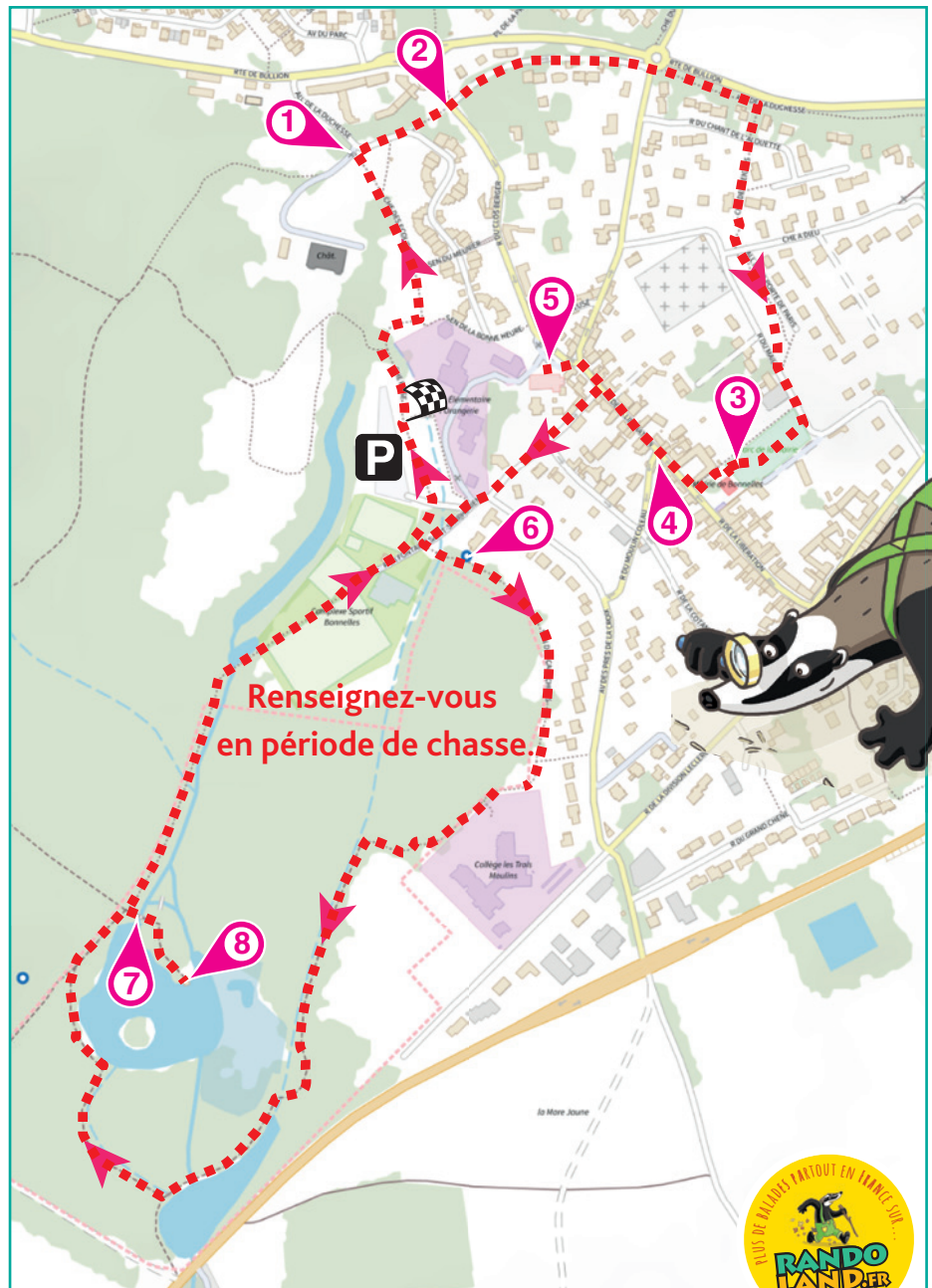
Continuer jusqu'au bout de la rue de la Libération et entrer sur la place devant l'église. S'intéresser au monument aux morts **5**.

Faire demi-tour pour reprendre à droite la rue de la Fontaine Saint-Symphorien. Juste avant l'entrée au parking de départ, prendre à gauche. Une vingtaine de mètres plus loin, tourner à gauche au niveau des panneaux, franchir le petit pont et suivre le balisage (rouge blanc) du GR. S'arrêter devant la fontaine Saint-Symphorien **6**.

Continuer tout droit, arriver sur la sente

des Caluchons et continuer à droite, en laissant tomber les marques du GR. Plus loin, le chemin cesse de longer le grillage du collège pour entrer dans la réserve naturelle des étangs de Bonnelles. Franchir plusieurs petites passerelles de bois et passer au milieu d'une plantation de bouleaux avant d'arriver aux étangs

de Bonnelles. Partir à droite jusqu'au pont du Temple d'Amour **7**. Franchir le pont pour rejoindre l'embarcadère qui sert de poste d'observation des oiseaux **8**. Faire demi-tour, franchir le pont du Temple d'Amour. Tourner à droite pour retourner au parking de départ.





Bonnelles

L'inspecteur Rando (en haut, à gauche du labyrinthe) part en balade. Mais par où va-t-il passer ?
 Pour découvrir le chemin emprunté, utilise les informations de la page suivante.
 Attention, l'inspecteur Rando ne doit jamais revenir sur ses pas et prend toujours la route la plus courte !
 Chaque fois qu'il trouvera une friandise sur sa route, colorie, dans l'ordre, un bonbon de la frise.
 En fin de parcours, note dans la case réponse le nombre de bonbons trouvés par l'Inspecteur Rando.
 À la fin de ta balade, rends-toi à l'Office de Tourisme ou sur le site randoland.fr pour vérifier ta réponse.

L'inspecteur Rando



1 2 3 4 5 6 7 8 9 10

Ta réponse



1 Le château

Quelle ombre chinoise correspond à celle de ce château ?

Tu vas découvrir la première étape de l'inspecteur Rando.



2 La grille du parc

Quel motif peux-tu découvrir sur la grille ?



3 La pompe du parc de la mairie

Quel dessin représente la roue qui permet d'actionner la pompe ?



4 La plaque du chemin vicinal

Quelle inscription indique la distance qui te sépare de "Les Clos" ?



5 Le monument aux morts

Que tient la femme représentée sur cette statue dans la main droite ?




6 La fontaine Saint-Symphorien

Combien de mains sont représentées sur la partie centrale de la fontaine ?



7 Le temple d'amour

Quel matériau principal a permis de construire le temple d'amour ?



Pierre




Briques

Bois



8 Le poste d'observation

Quel est le seul oiseau visible sur le panneau ?

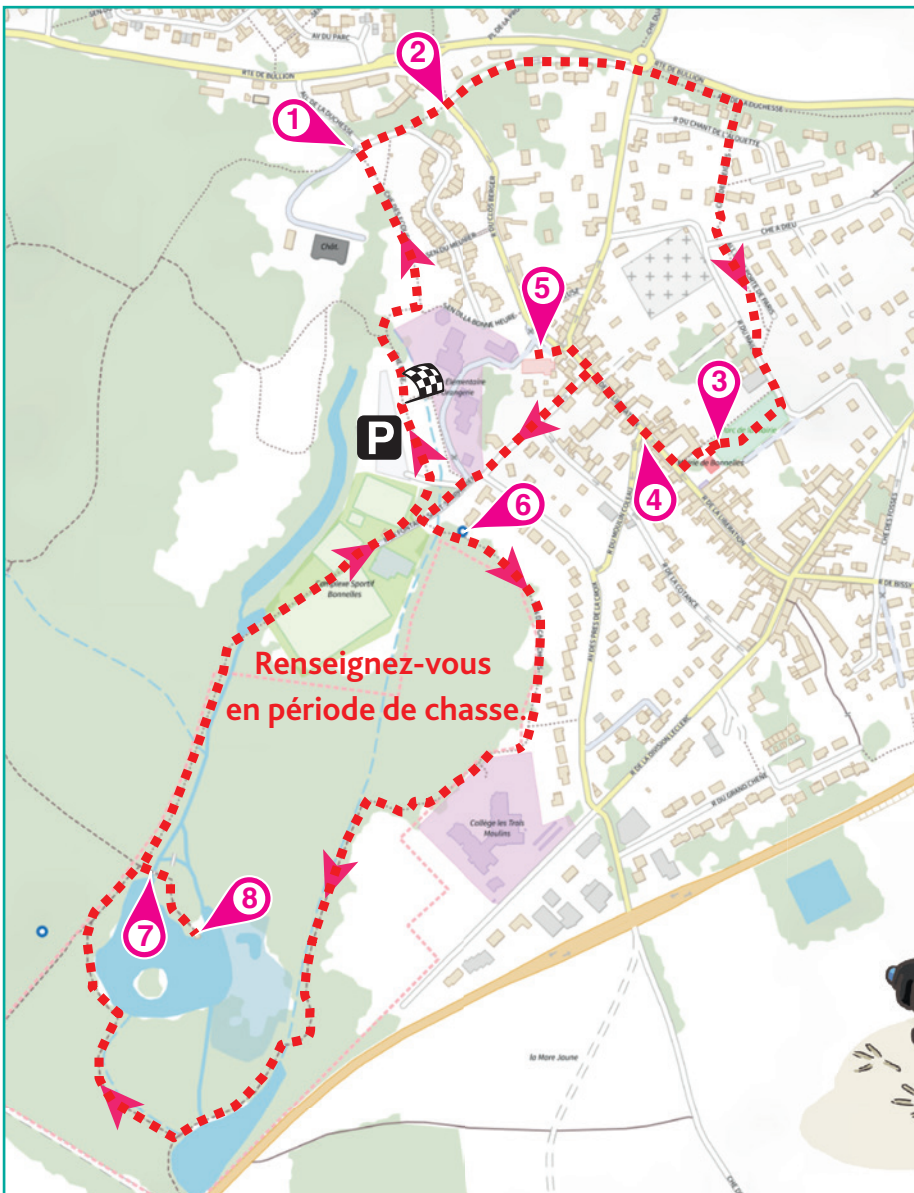




LA CONDUCTRICE TROP RAPIDE

Autour de Bonnelles, les chemins de forêt semblent tranquilles... mais il y a plus de 120 ans, une dame y passait bien plus vite que tout le monde ! À une époque où presque personne n'avait de voiture, elle a osé apprendre à conduire. Elle est même devenue la première femme à obtenir son permis de conduire. Et comme elle aimait aller vite, elle a aussi été la première femme sanctionnée pour excès de vitesse ! Les habitants l'appelaient toujours par son titre de noblesse « la Duchesse d'Uzès » mais ce n'est pas son vrai nom.

Pour retrouver son identité, tu devras trouver les huit indices du parcours et compléter la grille.



À chaque point indice, lis bien les indications de la page suivante et reporte tes réponses sur la grille de bas de page.

Tu disposes du plan ci-dessous. À l'emplacement des pastilles numérotées, lis les indications qui te permettront de résoudre l'énigme principale.

À la fin de ta balade, rends-toi à l'Office de Tourisme ou sur le site randoland.fr pour vérifier ta réponse.





Pour toutes les activités de cette fiche, reporte dans la grille de bas de page les réponses trouvées en face des nombres correspondants.

1 Le château

Quelle ombre chinoise correspond au château que tu as devant toi ?



OPHÉLIE

TITOUAN

Reporte le prénom noté sous la bonne ombre dans la grille.

2 La grille du parc

Au milieu des arabesques et autres volutes de cette grille, quel motif vois-tu apparaître à plusieurs reprises ? Choisis ci-dessous l'expression dans laquelle tu peux noter son nom.

SAMANTHA : Dormir à la belle ÉTOILE

LISANDRO : Tirer une CROIX sur quelque chose

AMANDINE : Faire une FLEUR à quelqu'un

Inscris dans la grille le prénom de celui qui a fait la bonne proposition.

3 La pompe du parc de la mairie

Compte les rayons de la roue qui permet d'actionner cette pompe.

Remplace le nombre découvert par la lettre qui a cette position dans l'alphabet.

Ex. : 1 = A ; 2 = B ; 3 = C ; etc.

Note cette lettre dans la grille.

UN PEU D'AIDE

Un rayon de roue est un morceau qui part du centre pour rejoindre le cercle extérieur.

4 La plaque du chemin vicinal

Quel lieu-dit se trouve à 1,1 km d'ici ?



Pour savoir quel prénom se cache derrière les cases bleutées, aide-toi des numéros pour remettre les lettres dans le bon ordre.

Écris le prénom découvert dans la grille.

UN PEU D'INFO

Tu viens de découvrir le prénom de madame du Gast, qui comme la duchesse d'Uzès, a obtenu son permis de conduire à la même époque.

5 Le monument aux morts

« Je fais partie de cette longue liste et pour me reconnaître, c'est simple : mon nom de famille désigne aussi un arbre fruitier. Qui suis-je ? »

Reporte dans la grille le nom de famille de ce fameux Jules.

6 La fontaine Saint-Symphorien

Sur la partie centrale de la fontaine, il y a cinq empreintes. Est-ce la main GAUCHE ou la main DROITE qui est la plus présente ?

Note ta réponse dans la grille, en classant les lettres du mot choisi dans l'ordre alphabétique.

Ex. : RANDO = ADNOR

7 Le temple d'amour

Du BOIS, de la BRIQUE ou du FER : quel matériau a été utilisé pour la construction de ce kiosque ? Sachant qu'une consonne vaut + 4 et une voyelle - 1, calcule la valeur de ce mot.

Ex. : RANDO = 4 - 1 + 4 + 4 - 1 = 10 = DIX

Reporte ton résultat en lettres dans la grille.

8 Le poste d'observation

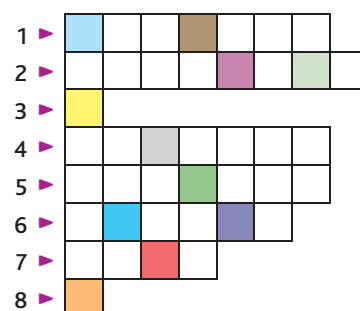
Intéresse-toi au bruant des roseaux ! Le mâle se distingue de la femelle car sa tête prend une belle teinte noire à un certain moment de l'année. À quelle saison exactement ?

A : Printemps B : Hiver C : Automne

Indique la lettre correspondant à la bonne réponse dans la grille.

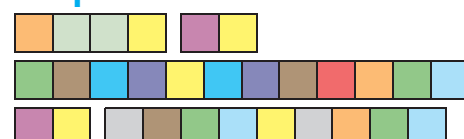
Grille réponse

Circuit n°7808701M



Remets en ordre les caractères des cases colorées pour trouver l'identité de cette femme.

Ta réponse:





Bonnelles

LA LIGNE DE LA DERNIÈRE CHANCE

Pour qui aime « taquiner le goujon », c'est-à-dire pêcher à la ligne, il existe un endroit idéal ici : les étangs de Bonnelles. Jojo connaît bien cet espace et dès qu'il le peut, il se pose au bord du plan d'eau dans un endroit au calme et sort sa canne à pêche. L'heure de la fermeture approche et Jojo est toujours bredouille. Alors qu'il s'apprête à ranger son matériel, quelque chose tire sur sa ligne... Tenant fermement sa canne à pêche, il remonte le moulinet et découvre alors au bout de l'hameçon un poisson, le seul pêché aujourd'hui.

Mais quel est donc ce poisson que Jojo a attrapé ? Avec l'inspecteur Rando, pars à la pêche aux infos pour le découvrir !



LISTE DES POISSONS

BARBEAU
COMMUN



6

Famille: Cyprinidés
Taille: 20 à 60 cm

ANGUILLE



9

Famille: Anguillidés
Taille: 60 à 80 cm

GOUJON



4

Famille: Cyprinidés
Taille: 10 à 15 cm

CARPE



8

Famille: Cyprinidés
Taille: 40 à 80 cm

TANCHE



2

Famille: Cyprinidés
Taille: 30 à 85 cm

SANDRE



1

Famille: Percidés
Taille: 50 à 70 cm

5

PERCHE



Famille: Percidés
Taille: 25 à 50 cm

GARDON



3

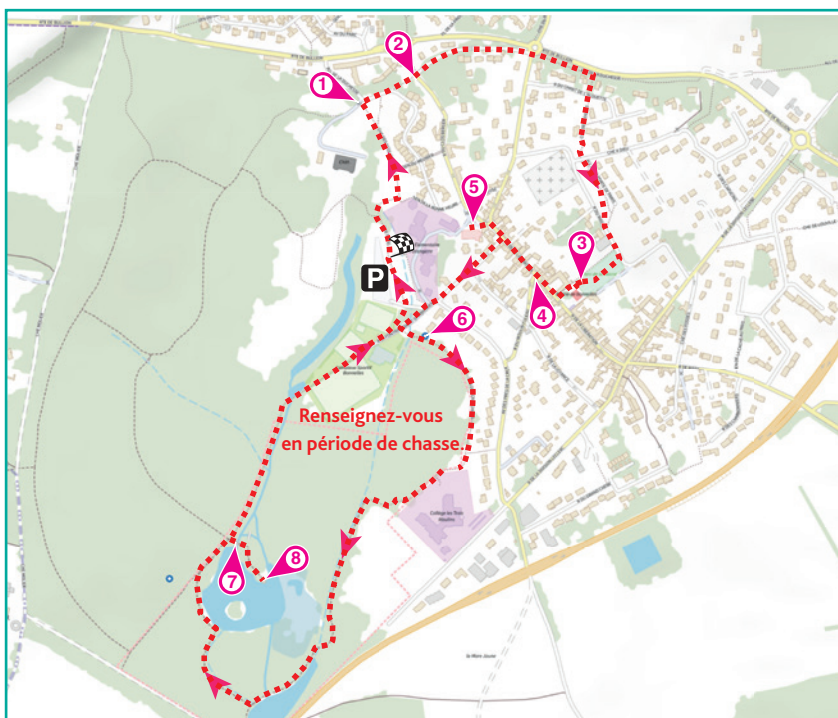
Famille: Cyprinidés
Taille: 10 à 30 cm

BROCHET



7

Famille: Ésocidés
Taille: 20 à 60 cm



Renseignez-vous
en période de chasse.

Tu disposes du plan ci-contre. À l'emplacement des pastilles numérotées, lis les indications qui te permettront de résoudre l'énigme principale. À la fin de ta balade, rends-toi à l'Office de Tourisme ou sur le site randoland.fr pour vérifier ta réponse.





Lors du passage devant chacun des indices, lis attentivement les indications fournies. Elles te permettront de résoudre l'énigme posée au verso de cette page.

1 Le château

Parmi ces ombres chinoises, laquelle N'est PAS celle du château que tu as devant les yeux ?



ANGUILLIDÉS



ÉSOCIDÉS

Le poisson qui fait partie de la famille inscrite sous la mauvaise ombre est à éliminer de la liste.

2 La grille du parc

Grâce à la plaque, découvre quand a commencé la construction du château actuel mais aussi quand elle s'est terminée !

Raye dans la grille ci-dessous les chiffres qui composent ces deux années.

1	5	4	5	7	3	8	3
2	8	0	9	3	4	6	1

Parmi les chiffres restants, lequel apparaît le plus souvent ?

Élimine de la liste le poisson portant ce numéro !

3 La pompe du parc de la mairie

Complète cette description en t'aidant des lettres suivantes :

A A A A C E E E F I I N N N O
Q R R S S S T T U U U X Y Z

Cette pompe est signée : _____
(constructeurs), _____ (commune) et S^{NE} & L^{RE}
(département). Pour l'actionner, il faut tourner la
roue à _____ branches.

Les lettres restantes forment un nombre.

Tu peux supprimer de la liste le poisson dont c'est la taille minimale.

UN PEU D'AIDE

Une branche de roue est un morceau qui part du centre pour rejoindre le cercle extérieur.

4 La plaque du chemin vicinal

Pour se rendre au lieu-dit Les Clos, combien de kilomètres faut-il parcourir ? Convertis cette information en mètres : _____ m.

Pour parcourir 1 mètre, un enfant fait environ 2 pas. Combien de pas aura-t-il fait en tout pour arriver là-bas ?

$$_ _ _ _ \times 2 = _ \square _ _ _$$

Ôte de la liste le poisson qui porte le même numéro que la case bleutée !

5 Le monument aux morts

Additionne tous les chiffres pairs qui composent la date du crash de l'avion qui comptait sept militaires comme membres d'équipage.

$$\text{Ex. : } 17 - 8 - 2019 = 8 + 2 + 0 = 10$$

Qui a obtenu un score égal au double de ta réponse ?



TIMÉO



CÉLIA

Élimine le poisson dont l'initiale est la même que le prénom de l'enfant qui a réalisé ce score !

6 La fontaine Saint-Symphorien

Compte les mains sur la fontaine (sauf celles en bronze) puis soustrais 10 au nombre découvert !

Tu peux rayer de la liste le poisson dont la taille minimale est identique à ton résultat.

7 Le temple d'amour

Il y a des fautes de frappe dans les descriptions ci-dessous. Décode pour savoir qui dit vrai !

ALEXANDRE : C'est un joli khiosque en boise au milieu de la fosrêt.

ROMAIN : Faulx ! Ce khiosque se trouve sur un plont à dieux arches.

Supprime de la liste le poisson dont le nom rime avec le prénom de l'enfant qui a raison.

8 Le poste d'observation

Au cri de quel animal ressemble le chant crépusculaire du râle d'eau ? Sachant qu'une consonne vaut + 15 et une voyelle + 5, calcule la valeur de ce mot.

$$\text{Ex. : } \text{RANDO} = 15 + 5 + 15 + 15 + 5 = 55$$

Tu peux barrer de la liste le poisson dont c'est la taille maximale car ce n'est pas celui attrapé.

Circuit n° 7808701G

Tu devrais avoir retrouvé le nom du poisson.

Ta réponse: